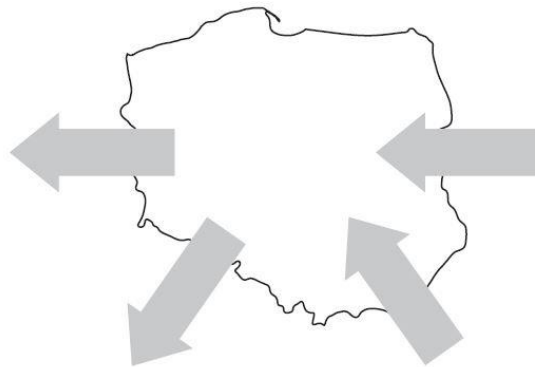


# Zróżnicowanie ludności Europy. Migracje

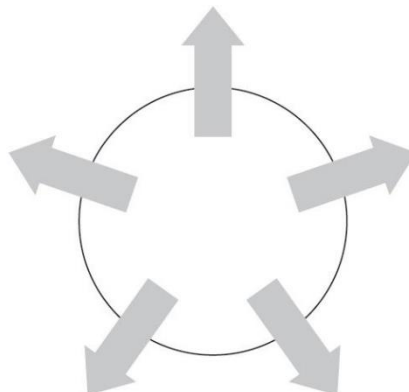
imię i nazwisko	
klasa	data

1. Wpisz w odpowiednich strzałkach określenia: *emigracja* i *imigracja*.

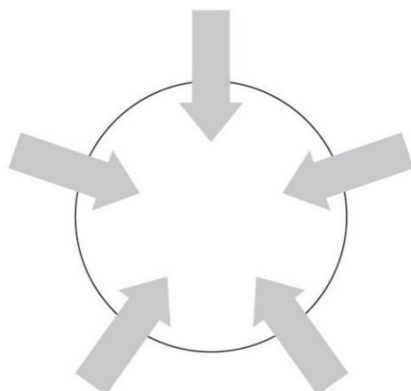


2. Wykonaj polecenia.

a) Wpisz obok strzałek czynniki sprawiające, że ludzie wyjeżdżają z kraju pochodzenia.



b) Wpisz obok strzałek czynniki zachęcające do osiedlenia się w innym kraju niż kraj pochodzenia.



3. Pokoloruj ramki, w których znajdują się nazwy europejskich narodów zgodnie z poniższą instrukcją:

- na czerwono pokoloruj nazwy narodów należących do ludów romańskich,
- na niebiesko – nazwy narodów należących do ludów germańskich,
- na żółto – nazwy narodów należących do ludów słowiańskich.

Rumuni	Anglicy	Chorwaci	Hiszpanie	Włosi
Norwegowie	Niemcy	Czesi	Polacy	Rosjanie

4. Skreśl zbędne określenia tak, aby tekst zawierał prawdziwe informacje.

Chrześcijanie stanowią **dwie trzecie / trzy czwarte** mieszkańców Europy. Do chrześcijan należą protestanci, zamieszkujący **północną / południową** część Europy, **katolicy / wyznawcy prawosławi** przeważający we wschodniej części kontynentu oraz **katolicy / protestanci**, którzy mieszkają w środkowej zachodniej części Europy. Albanie, Kosowo oraz Bośnię i Hercegowinę zamieszkują wyznawcy **islam / judaizmu**. Za fundament kulturowy Europy uznaje się **chrześcijaństwo / judaizm**.